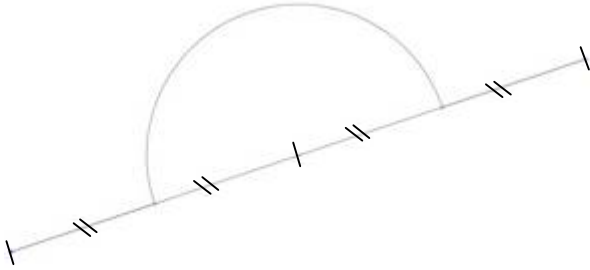


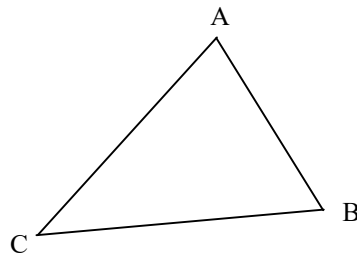
1 Construire l'image de la figure ci-dessous par la rotation de centre O et d'angle 90° dans le sens **horaire**



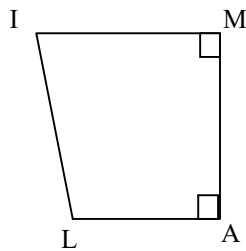
×
O

2 a. Construire l'image du triangle ABC par la rotation de centre O et d'angle 50° dans le sens **antihoraire**.

×
O



3 Construire l'image du quadrilatère MILA par la rotation de centre O et d'angle 120° dans le sens **horaire**.



×
O