

DEFI N° 1 - CE2

Problème 1 : Les 5 ballons

(12 points)

Le ballon bleu est entre le ballon violet et le ballon marron.

Le ballon marron est à droite du ballon bleu.

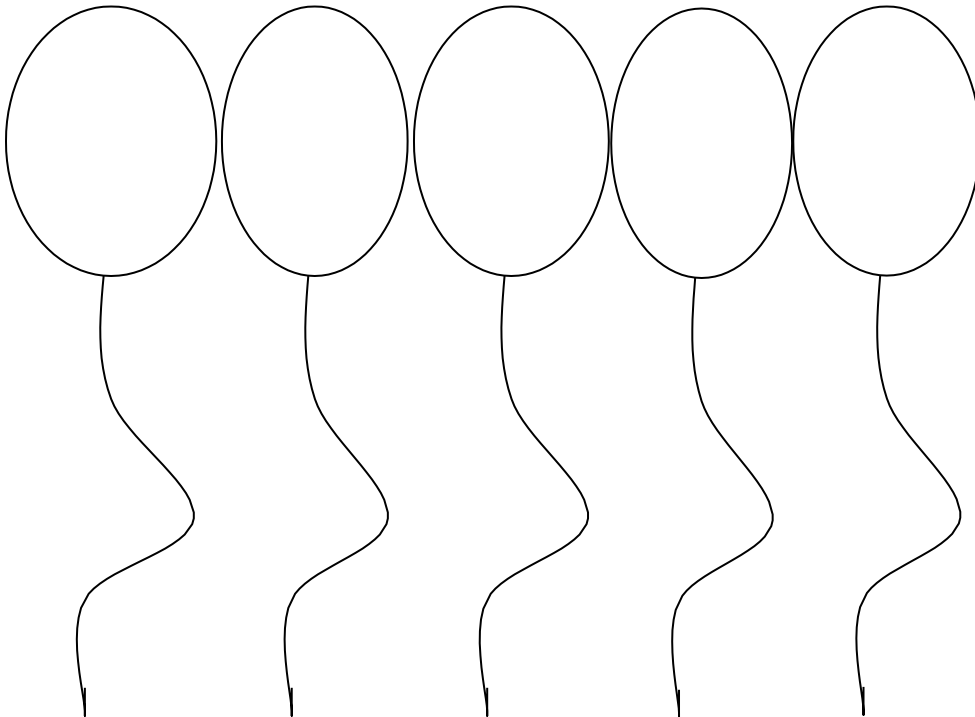
Le ballon violet n'est ni à côté du ballon marron, ni à côté du ballon gris.

Le ballon rose n'est ni à côté du ballon marron, ni à côté du ballon gris.

Le ballon marron est à côté du ballon gris.

Colorie les ballons de la couleur indiquée.

Tu peux aussi écrire la couleur à l'intérieur des ballons.

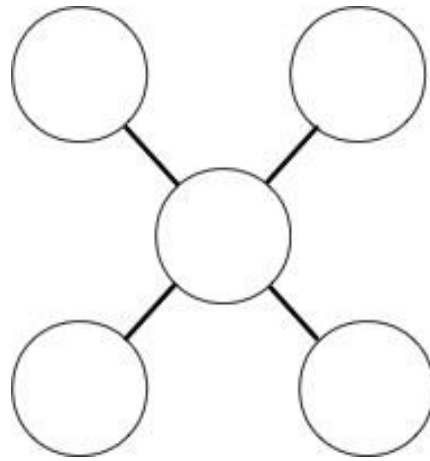


Problème 2: Tous en ligne

8 points

Place les nombres : 1, 2, 3, 4, 5 dans les ronds.

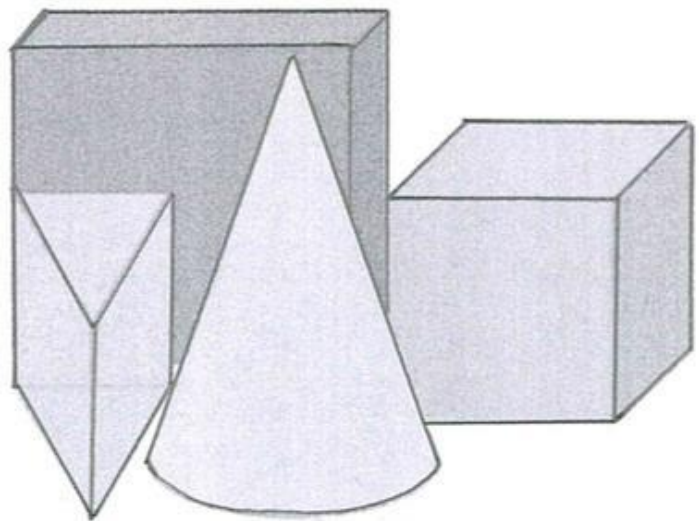
Attention : la somme des 3 nombres de chaque ligne doit être égale à 9.

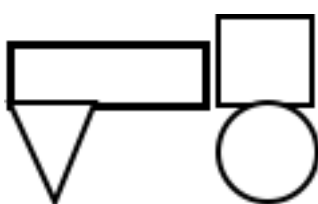
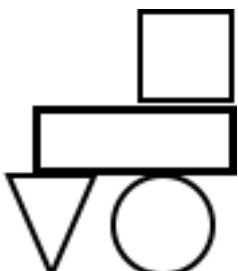
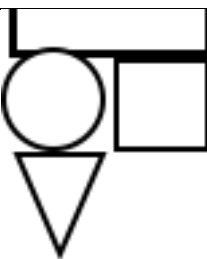
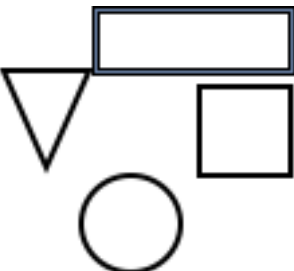
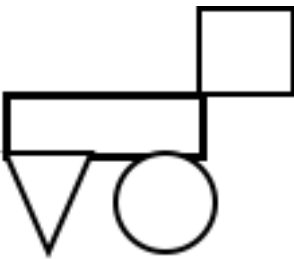
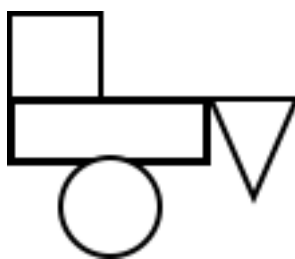


Problème 3 : Vue d'en haut

10 points

Si tu regardes ces images en te plaçant au-dessus, quelle image verras-tu ?



 <p>A</p>	 <p>B</p>	 <p>C</p>
 <p>D</p>	 <p>E</p>	 <p>F</p>


DEFI N° 1 CE2

Fiche réponse

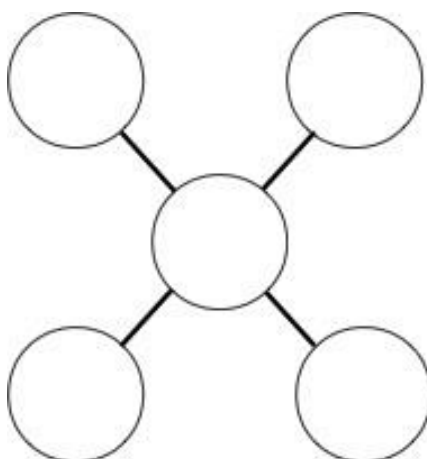
Nom :

Prénom :

1. Les 5 ballons (12 points)



2. Tous en ligne (8 points)



3. Vue d'en haut (10 points)

Si je me place au-dessus, je verrai l'image :

Score : / 30