


1 Dessine la somme de 1€.

Avec des pièces de  :

Avec des pièces de  :

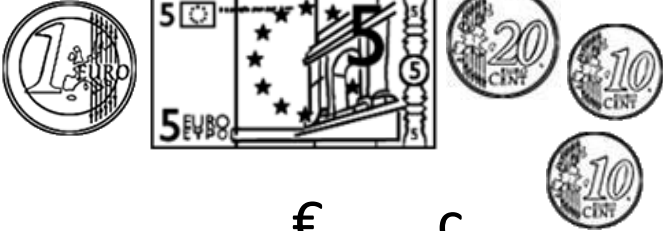
2 Complète (fais des paquets de 1€ quand tu peux) :




..... € c



..... € c




..... € c



..... € c



..... € c



..... € c

1 Barre les pièces ou les billets en trop.


7 € 60 c

6 € 54 c

2 Dessine 1€ 40c de 3 manières différentes, sans utiliser .

3 Karim achète 1 part de tarte à 1€60c et 3 bonbons à 20c. Combien dépense-t-il ?

1 Dessine le moins de pièces et de billets possible pour payer ces objets.



Enveloppe
et timbre :
1 € 70



Paire de
baskets :
34 € 90

2 Voici ce que contiennent les portemonnaies de Léane et Adrien.
Combien possède chaque enfant ?

