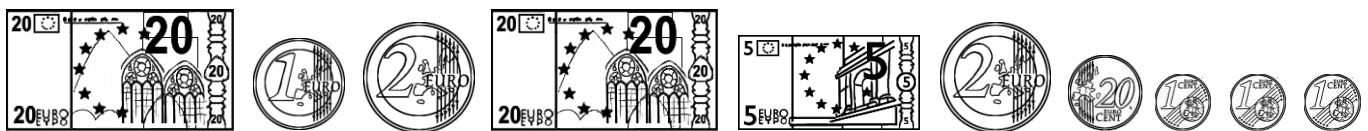


**1. Dessine le moins de billets et de pièces possible pour payer ces objets.**











	Enveloppe et timbre : <b>1 € 23 c.</b>
	Paire de baskets : <b>37 € 47 c.</b>

**2. Voici ce que contient le portemonnaie de Monica. Combien possède-t-elle ?**



Phrase réponse : .....

**3. Observe, puis écris la somme que rend la marchande. Pour t'aider, tu peux dessiner les billets et les pièces sur ton ardoise.**

	L'objet coute :	Lise donne :	La marchande lui rend :
	Journal : <b>59 c.</b>		.....
	Ours en peluche : <b>18 € 70 c.</b>		.....
	Part de gâteau : <b>3 € 55 c.</b>		.....
	Jeu de société : <b>47 € 66 c.</b>		.....
	Jeu de quilles : <b>18 €</b> + yoyo : <b>4 € 70 c.</b>		.....