

1 **Écris le prix de chaque objet.**



..... € et .....



.....

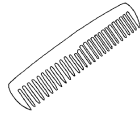


.....

2 **Entoure les pièces qu'il te faut pour acheter chaque objet.**



1 € 50



1 € 35



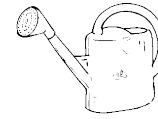
0 € 57



1 € 15



3 **Range les prix du plus cher au moins cher.**



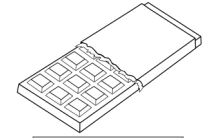
13 € 50



95 ct



4 € 29



2 € 95

.....

.....

.....

.....

4 À l'épicerie, Célia achète du pain de mie pour 4 € 50, du beurre pour 2 € 99 et un pot de confiture pour 3 € 10.

Combien a-t-elle dépensé ?

.....

4 € 50	
2 € 99	
3 € 10	
.....	

5 **Réponds, et écris le schéma qui explique ta réponse.**

Sébastien achète un ballon qui coûte 8 €. Pour payer, il donne un billet de 10 € au commerçant.



Combien le commerçant lui rend-il ?

.....



Juliette achète des fleurs pour 12 €. Pour payer, elle donne un billet de 20 € à la fleuriste.



Combien la commerçante lui rend-elle ?

.....

