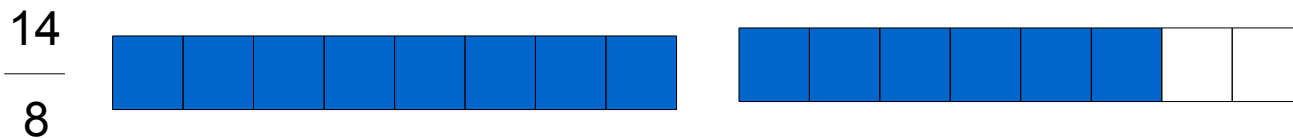


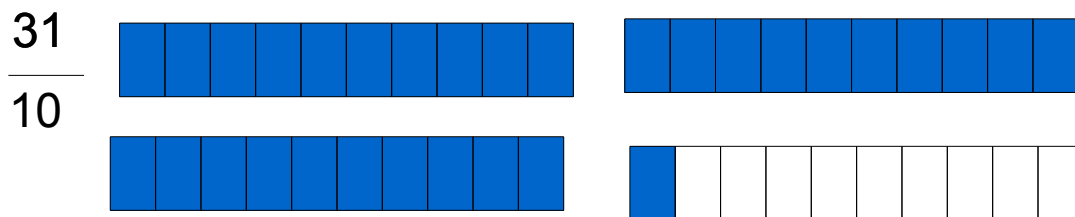
Dessine les fractions, indique entre quels nombres elle se trouve et range dans l'ordre croissant :



La fraction se situe entre 2 et 3.



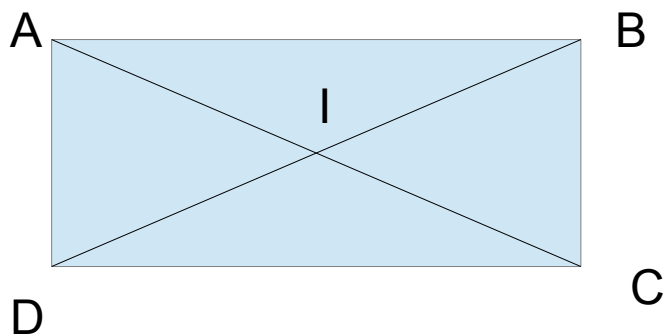
La fraction se situe entre 1 et 2.



La fraction se situe entre 3 et 4.

$$\frac{14}{8} < \frac{5}{2} < \frac{31}{10}$$

Géométrie :



Attention aux angles droits du rectangle.