

Orthographe

Complète les phrases avec on ou ont.

- Quand ...on..... joue au loto, ..on..... ne gagne pas toujours le gros lot.
- Les cyclistes ...ont..... des maillots de toutes les couleurs ; ...on..... les reconnaît facilement.
- Les rues des vieilles villes ...ont..... des trottoirs très étroits.
- ...On..... a le droit de regarder les oiseaux quand ...on..... est dehors.
- Quand les chariots du supermarché ...ont..... des roues tordues, c'est difficile de les pousser.
- Les monteurs du cirque ...ont..... installé le chapiteau ; ...on..... ira voir les acrobates et les dompteurs cet après-midi.
- Chaque année, ...on..... rappelle les consignes de sécurité en début d'année.

Grammaire

Dans chaque phrase souligne le verbe puis son sujet.

Ces vieilles voitures ne roulent plus.

S

V

Chaque matin, Denise ferme son garage.

S

V

Les miettes de pain attirent les oiseaux.

S

V

La sœur de Camille aura 16 ans demain.

S

V

Nous porterons des maillots verts.

S

V

En ce moment, entendez-vous le chant des oiseaux ?

V

S

J'aperçois sa voiture au loin.

S

V

Pendant les vacances, vous faisiez de la cuisine avec vos parents.

S

V

L'escargot sortait de sa coquille.

S

V

Elle comprend toujours tout rapidement.

S

V

Actuellement, de gros nuages gris sont dans le ciel.

S

V

Calcul

$\begin{array}{r} \textcircled{1} \quad \textcircled{1} \quad \textcircled{1} \\ 3914 \\ + 5789 \\ \hline 9703 \end{array}$	$\begin{array}{r} 395 \\ \times \quad \quad 5 \textcircled{2} \textcircled{4} \\ \hline 1975 \end{array}$	$\begin{array}{r} 5472 \\ - 3865 \\ \hline \overset{+1}{1} \overset{+1}{6} 07 \end{array}$
$\begin{array}{r} 684 \\ \times \quad \quad 7 \textcircled{2} \textcircled{5} \\ \hline 4788 \end{array}$	$\begin{array}{r} \textcircled{1} \quad \textcircled{1} \quad \textcircled{1} \\ 496 \\ + 6958 \\ \hline 7454 \end{array}$	

Numération

Range les nombres suivants dans l'ordre décroissant : 3 875 - 6 783 - 261 - 3 057 - 6 870 - 5 780 - 601 - 6 375 - 2 621 - 5 370.

6 870 - 6 783 - 6 375 - 5 780 - 5 370 - 3 875 - 3 057 - 2 621 - 601 - 261.

Range les nombres suivants dans l'ordre croissant : 2 354 - 7 409 - 745 - 8 763 - 4 907 - 47 - 3 876 - 2 745 - 8 376 - 3 678.

47 - 745 - 2 354 - 2 745 - 3 678 - 3 876 - 4 907 - 7 409 - 8 376 - 8 763.

Complète les suites de nombres.

• 2 134 - 2 234 - 2 334 - 2 434 - 2 534 - 2 634 - 2 734 - 2 834 - 2 934
- 3 034 - 3 134 - 3 234 - 3 334 -

• 7 880 - 7 870 - 7 860 - 7 850 - 7 840 - 7 830 - 7 820 - 7 810 - 7 800
- 7 790 - 7 780 - 7 770 - 7 760 -

• 6 773 - 6 774 - 6 775 - 6 776 - 6 777 - 6 778 - 6 779 - 6 780 - 6 781
- 6 782 - 6 783 - 6 784 - 6 785 -

• 3 401 - 3 301 - 3 201 - 3 101 - 3 001 - 2 901 - 2 801 - 2 701 - 2 601
- 2 501 - 2 401 - 2 301 - 2 201 -

• 5 603 - 5 602 - 5 601 - 5 600 - 5 599 - 5 598 - 5 597 - 5 596 - 5 595
- 5 594 - 5 593 - 5 592 - 5 591 -

Mardi 28 avril 2020

Lecture / écriture

- 1 Écris les mots suivants au bon endroit :
le titre - l'auteur - l'illustrateur - l'éditeur - l'illustration



- 2 À ton avis, quel mot se cache sous le nuage ?

Le loup qui découvrait le pays des **contes**

- 3 Donne deux éléments de la couverture qui t'ont permis d'imaginer ce mot ?

le **Petit Chaperon rouge**

les 3 petits cochons

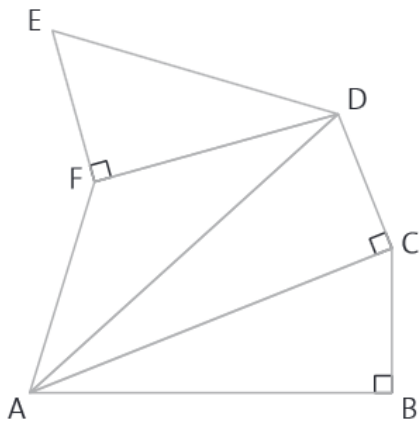
= ce sont des contes

N'oublie pas d'envoyer ta réponse à la question 4 par mail : marie.burel@ac-caen.fr

Géométrie

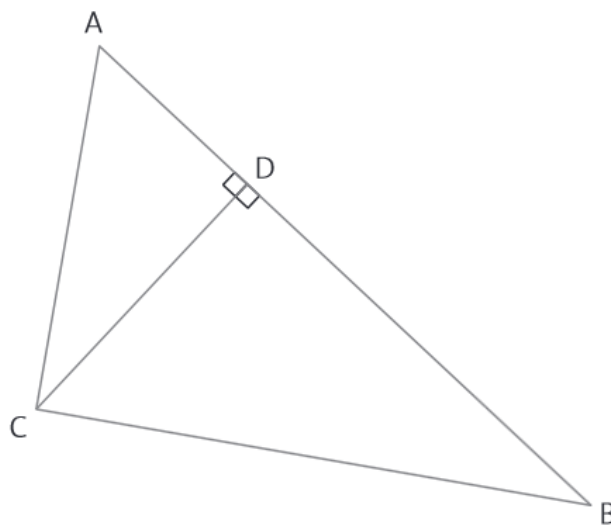
3 * Les triangles sont :

- ABC, rectangle en B ;
- ACD, rectangle en C ;
- ADF ;
- FDE, rectangle en F.



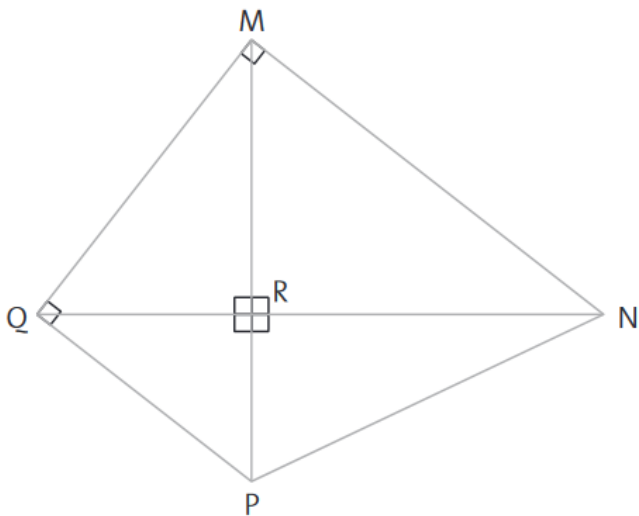
4 * a. et b.

Les triangles sont : ABC, ACD et CBD.



5 * a. Les triangles sont : PQR, NPR, MQR, MNR, MNP, MPQ, MNQ et NPQ.

b. Les angles droits sont de sommet R pour MRQ, PQR, MNR, NPR de sommet M pour MNQ et de sommet Q pour MPQ.



Conjugaison

Conjugué les verbes entre parenthèses à l'imparfait.

- Il y a quelques mois, il (donner) ...**donnait**..... des leçons de natation aux enfants pendant les vacances d'été.
- Hier, nous (voler)**volions**..... au dessus de l'océan.
- Quand j' (avoir)**avais**..... 5 ans, je faisais du vélo avec des roulettes.
- L'an passé, ils (acheter)**achetaient**..... leur maison.
- Vous (être)**étiez**..... encore en retard hier matin !
- Ce matin, pendant la récréation, tu (crier)**criais**..... un peu trop.
- En maternelle, nous (avoir)**avions**..... notre doudou en classe.
- Avant de partir, je (regarder)**regardais**..... le trajet à suivre sur une carte.
- Les élèves (jouer)**jouaient**..... tranquillement dans la cour.
- Malheureusement, tu (être)**étais**..... malade hier !
- Vous (avancer)**avanciez**..... rapidement sur le trottoir.
- L'année dernière, ma cousine (chanter)**chantait**..... tous les samedis matins.

Vocabulaire

Pour chaque mot, souligne le radical et encadre le suffixe.

une parfumer**erie** - un fleur**iste** - un plate**au** - éclat**ant** -
un renard**eau** - libre**ment** - rapid**ement** - une décor**ation**
- rouge**âtre** - la gourmand**ise**.

Pour chaque mot, souligne le radical et encadre le préfixe.

reconduire - surcharger - anormal - méconnu - revoir -
malhonnête - prénom - redonner - sursauter - indigeste.

Calcul

$\begin{array}{r} 8503 \\ - 6425 \\ \hline 2078 \end{array}$	$\begin{array}{r} 437 \\ \times 6 \\ \hline 2622 \end{array}$	$\begin{array}{r} 378 \\ + 7654 \\ \hline 8032 \end{array}$
$\begin{array}{r} 6271 \\ - 3905 \\ \hline 2366 \end{array}$	$\begin{array}{r} 528 \\ \times 4 \\ \hline 2112 \end{array}$	

Problèmes

$\begin{array}{r} 74 \\ \times 6 \\ \hline 444 \end{array}$	Lors de ce tournoi sportif il y avait 444 participants.
$179 + 5 = 184$	Lucien a ramassé 184 champignons.
$\begin{array}{r} 148 \\ - 73 \\ \hline 075 \end{array}$	75 chiens sont dans le parc.
$\begin{array}{r} 127 \\ \times 4 \\ \hline 508 \end{array}$	Chaque année, un habitant jette 508 kg de déchets.
$9 \times 4 = 36$	
6 fois 50 centimes = 3 €	
$36 + 3 = 39$	Le montant total de ses achats est 39 €.