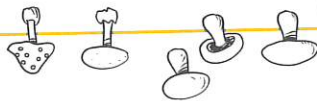


Tirbot dépose 13 champignons dans un panier. Robotine ajoute 15 champignons dans ce panier. **Combien de champignons y a-t-il en tout dans le panier ?**

12


Recherche



Opération(s)

Calcul(s)


Phrase réponse



Tirbot et Robotine ramassent 12 noisettes et 22 glands dans la forêt. **Combien ont-ils ramassé de fruits d'automne ?**

13

Recherche



Opération(s)

Calcul(s)

Phrase réponse

