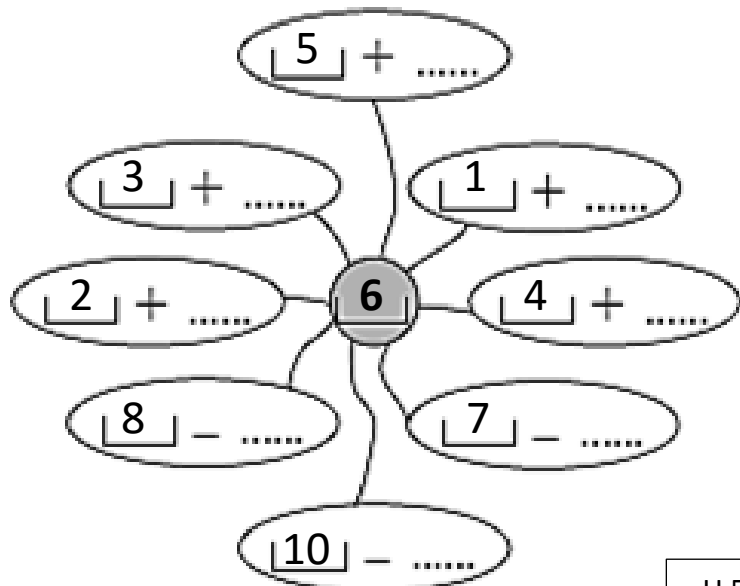
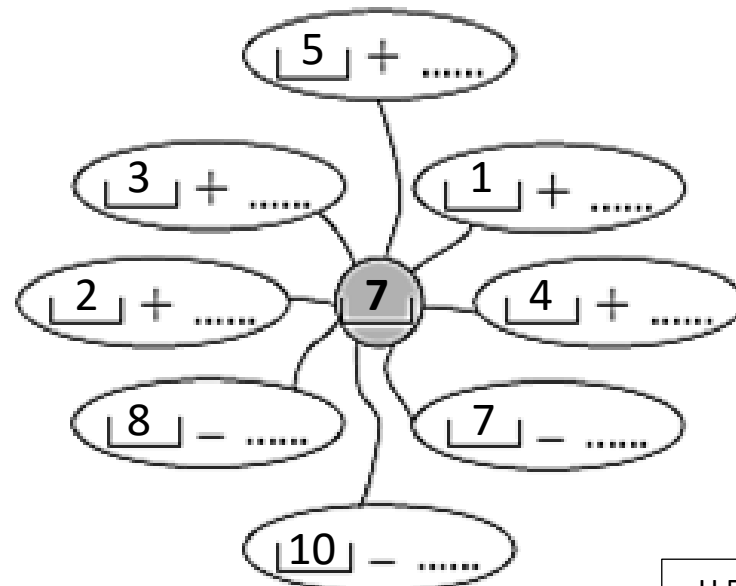


 Complète pour que le résultat soit égal à **6**.




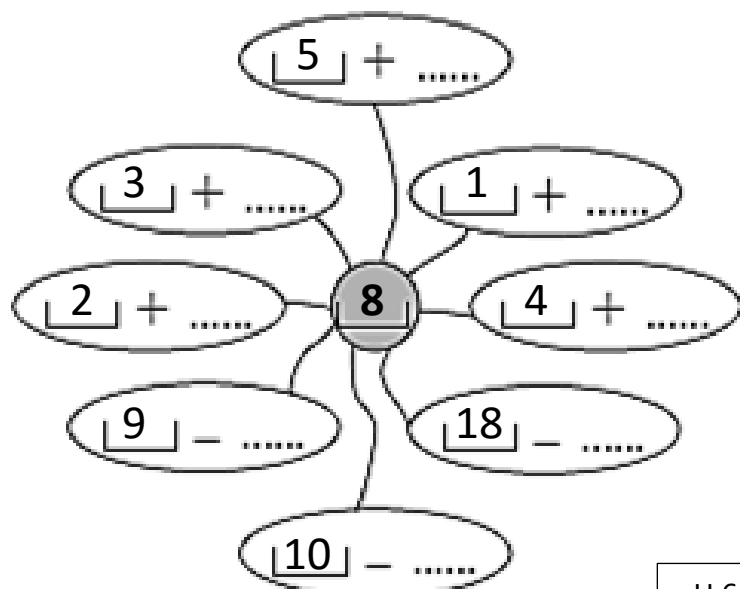
U 5-1

 Complète pour que le résultat soit égal à **7**.




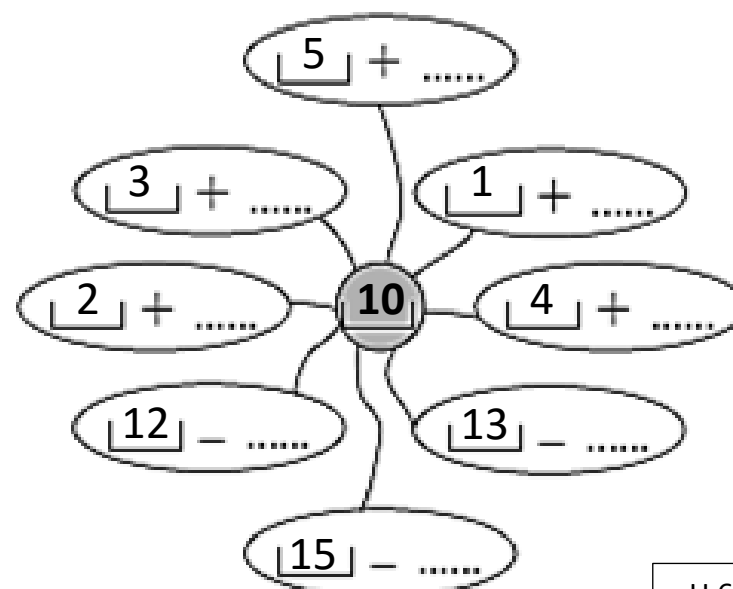
U 5-2

 Complète pour que le résultat soit égal à **8**.



U 6-1

 Complète pour que le résultat soit égal à **10**.


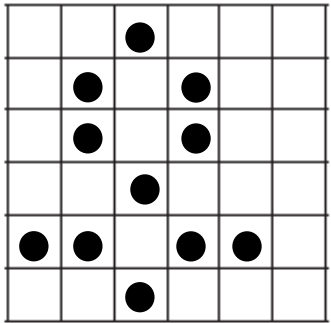


U 6-2




Reproduis le modèle.

U 5-6



Entoure les personnages qui ont obtenu **10** points au total.

U 5-4



Complète

U 5-3

$$\boxed{4} + \boxed{3} + \boxed{2} = \dots$$

$$\boxed{5} + \boxed{2} + \boxed{5} = \dots$$

$$\boxed{1} + \boxed{2} + \boxed{3} = \dots$$

$$\boxed{3} + \boxed{5} + \boxed{1} = \dots$$

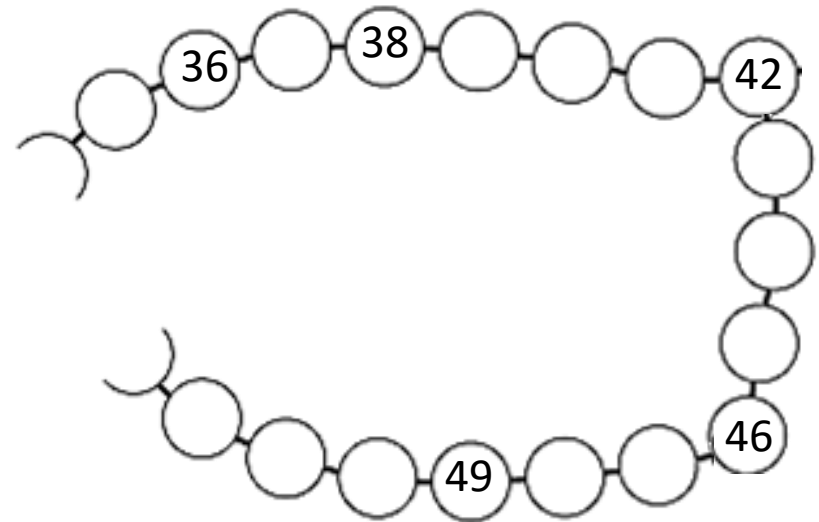
$$\boxed{1} + \boxed{5} + \boxed{4} = \dots$$

$$\boxed{5} + \boxed{5} + \boxed{1} = \dots$$



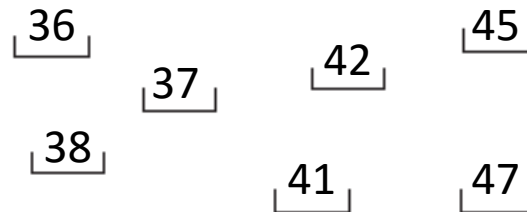
Ecris les nombres qui manquent.

U 5-5



Ecris les cinq nombres effacés par Gribouille.

U 6-3



J'avais écrit  
tous les nombres  
de 36 à 47.  
Gribouille en a effacé.  
Lesquels?