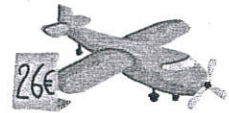


# Les nombres de 0 à 29

**1** Observe.

Réponds aux questions.

J'ai 20 €.



Peut-il acheter la voiture ? .....

Combien lui manque-t-il pour acheter l'avion ? .....

**2** Relie les écritures d'un même nombre.

vingt-six

22

vingt-deux

29

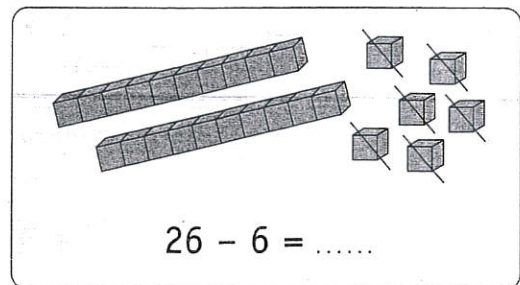
vingt-neuf

28

vingt-huit

26

**3** Complète les soustractions.




$$26 - 6 = \dots\dots$$

$$28 - 8 = \dots\dots$$

$$27 - 7 = \dots\dots$$

**4**

Betty et Moussa achètent un livre au même prix. Entoure ce que chacun d'eux va donner pour payer.



Betty



Moussa

**5**

Range du plus petit au plus grand

17 - 27 - 7 - 24 - 14 - 30

# La suite des nombres

1

Complète les bandes.



0	1	2	3	4	5	6	7	8	9
10	.....	.....	.....	.....	.....	.....	.....	.....	19
20	.....	.....	.....	.....	.....	.....	.....	.....	.....
30	31	32	33	34	35	36	37	38	39
40	41	42	43	44	45	.....	.....	48	49
50	51	.....	.....	54	55	56	57	58	59

2 Complète en utilisant les bandes numériques du 1.

23	24	.....	.....	.....	.....
----	----	-------	-------	-------	-------

.....	.....	.....	39
-------	-------	-------	----

20	21	22	.....	.....	25	26
	31	32	33	34	.....	.....
40	.....	.....	43	.....	.....	46

		24	25	26	
32	33	.....	.....	.....	.....
42	.....	.....	.....	46	.....

En utilisant les bandes du 1, trouve les nombres.

Ils sont sur la même ligne que 10 et ils sont plus grands que 17.

Ils s'écrivent tous les deux avec un 2 et un 3.

Ils sont sur la même ligne que 20, après 23 et avant 26.