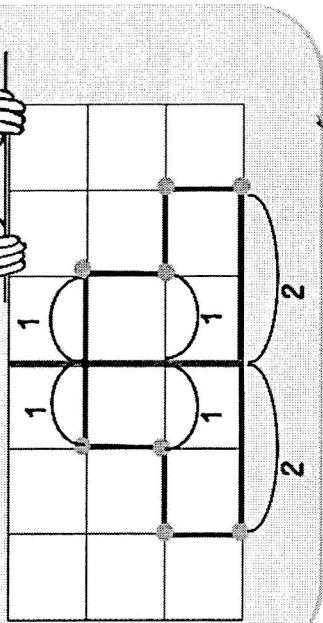



La symétrie

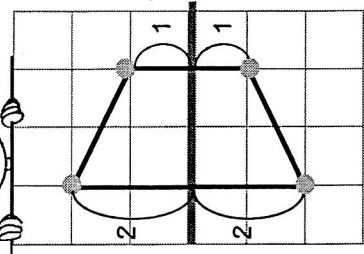
Je compte le nombre de carreaux à partir de l'axe de symétrie.



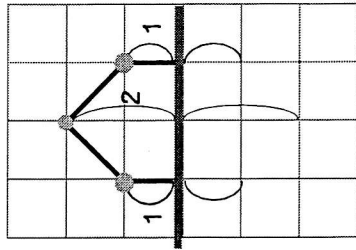
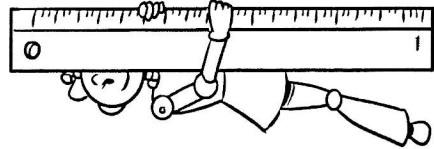
Cet axe de symétrie est vertical !



L'axe peut être horizontal !

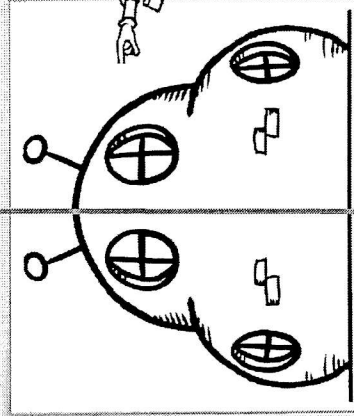



Complète à ton tour cette figure par symétrie

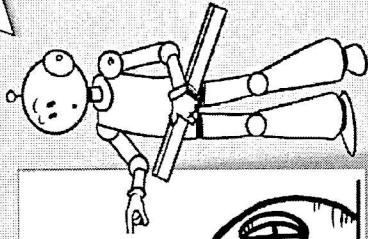


La symétrie

Ce dessin a un axe de symétrie.



Voici l'axe de symétrie.



- Ces figures ont -elles un axe de symétrie ?
- Si oui, trouve leur axe de symétrie.

