

Mathématiques – Module 14

Exercice 1 : le nombre du jour :

Voici le nombre pour aujourd'hui :

trois-cent-millions-sept-cent-vingt-mille-trente



a. Place ce nombre dans le tableau :

millions			mille			unités		
C	D	U	C	D	U	C	D	U

b. Donne ce nombre de centaines:

c. Encadre ce nombre à l'unité de mille près, comme dans l'exemple : $141\ 000 < 141\ 758 < 142\ 000$

d. arrondis ce nombre à la centaine près comme dans l'exemple : $141\ 758 \rightarrow 141\ 800$

Exercice 2 : calcul mental :

Donne le triple des 4 nombres suivants (triple = 3 fois le nombre)

30:

60:

100:

300:



Exercice 3 : problèmes quotidiens :

Résous les problèmes suivants :

- Mathilde a 9 ans. Son père est 5 fois plus âgé qu'elle.
Quel âge a son père ?

- Je donne 1 carré de chocolat à chacun de mes amis. Ma tablette a 8 rangées de 4 carrés chacune. A combien d'amis puis-je donner 1 carré de chocolat ?




Exercice 4 : Ticket de caisse :

Calcule le total des achats par ticket de caisse :



3	Coopérative Biologique	4	Coopérative Biologique
Qté	Désignation	Qté	Désignation
1	Pull hiver	1	Paquet de riz
1	Sauce bolognaise	1	Sauce au curry
	Total		Total
	19,25 €		0,65 €
	3,50 €		2,05 €
TOTAL ...		TOTAL ...	
MERCI DE VOTRE VISITE ET A BIENTOT		MERCI DE VOTRE VISITE ET A BIENTOT	

(Pour les CM1, n'hésitez pas à faire deux additions différentes, une avec les euros et une avec les centimes)

ticket 3 :

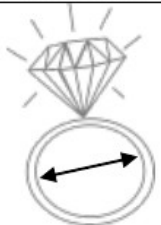





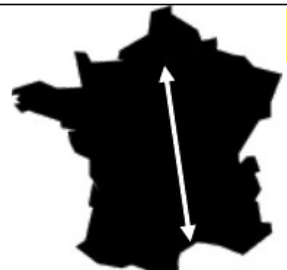
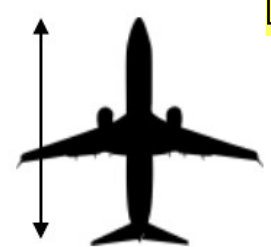
ticket 4 :



Exercice 5 : grandeurs et mesures

Choisis la bonne proposition :

Largeur d'une bague	Taille d'un homme	Hauteur d'une tasse
		
<input type="checkbox"/> 14 cm	<input type="checkbox"/> 170 cm	<input type="checkbox"/> 1 cm
<input type="checkbox"/> 14 mm	<input type="checkbox"/> 170 mm	<input type="checkbox"/> 100 mm
<input type="checkbox"/> 14 m	<input type="checkbox"/> 170 m	<input type="checkbox"/> 10 dm

Largeur de la tête d'un clou	Distance Paris-Marseille	Longueur d'un avion
		
<input type="checkbox"/> 3 cm	<input type="checkbox"/> 800 dan	<input type="checkbox"/> 4 000 cr
<input type="checkbox"/> 3 mm	<input type="checkbox"/> 800 dn	<input type="checkbox"/> 400 mrr
<input type="checkbox"/> 3 hm	<input type="checkbox"/> 800 kn	<input type="checkbox"/> 40 dm