

## Mathématiques – Module 14

### Exercice 1 : le nombre du jour :

Voici le nombre pour aujourd'hui :  
un-million-quatre-cent-mille-deux



a. Place ce nombre dans le tableau :

millions			mille			unités		
C	D	U	C	D	U	C	D	U

b. Donne ce nombre de centaines:

c. Encadre ce nombre à l'unité de mille près, comme dans l'exemple :  $141\ 000 < 141\ 758 < 142\ 000$

d. arrondis ce nombre à la centaine près comme dans l'exemple :  $141\ 758 \rightarrow 141\ 800$

### Exercice 2 : calcul mental :

Calcule :

$4 + 2,5 =$


$4,12 + 5 =$

$1 + 4,7 =$

$2,01 + 3 =$

$8 + 7,1 =$

$6,14 + 8 =$



### Exercice 3 : problèmes quotidiens :

Résous les problèmes suivants :

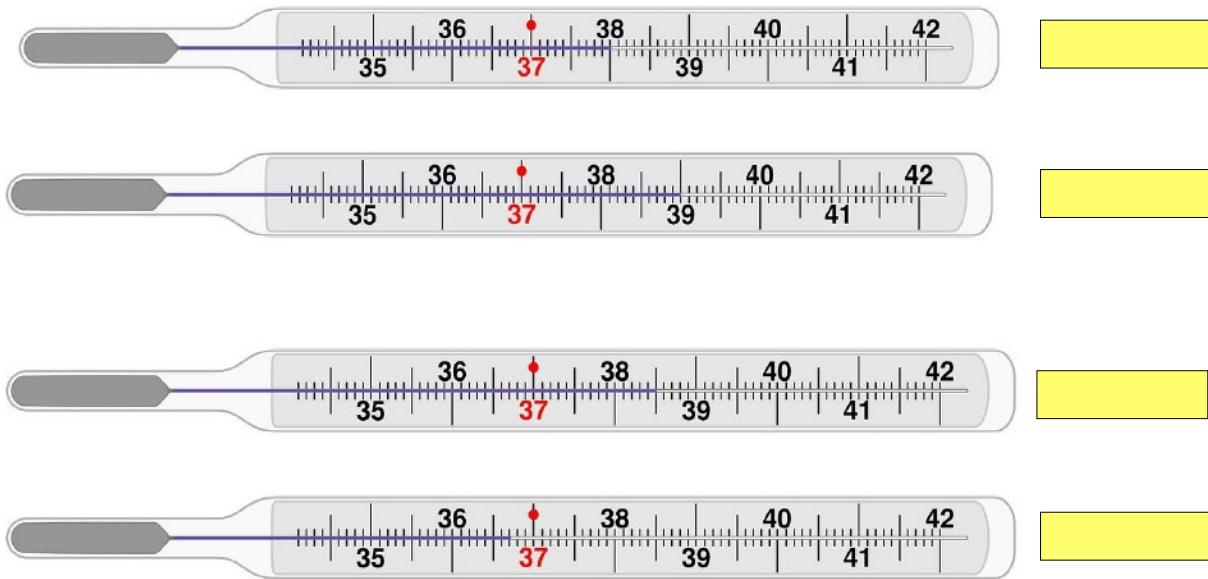
- Mamie a 95 bonbons pour offrir à ses petits-enfants. Elle en donne 5 par petit-enfant. Combien de petits-enfants a-t-elle ?



- La voiture fait des tours de piste pendant 30 minutes. Elle met 1 minutes et 30 secondes pour faire un tour. Combien de tours fait-elle en 30 minutes ?

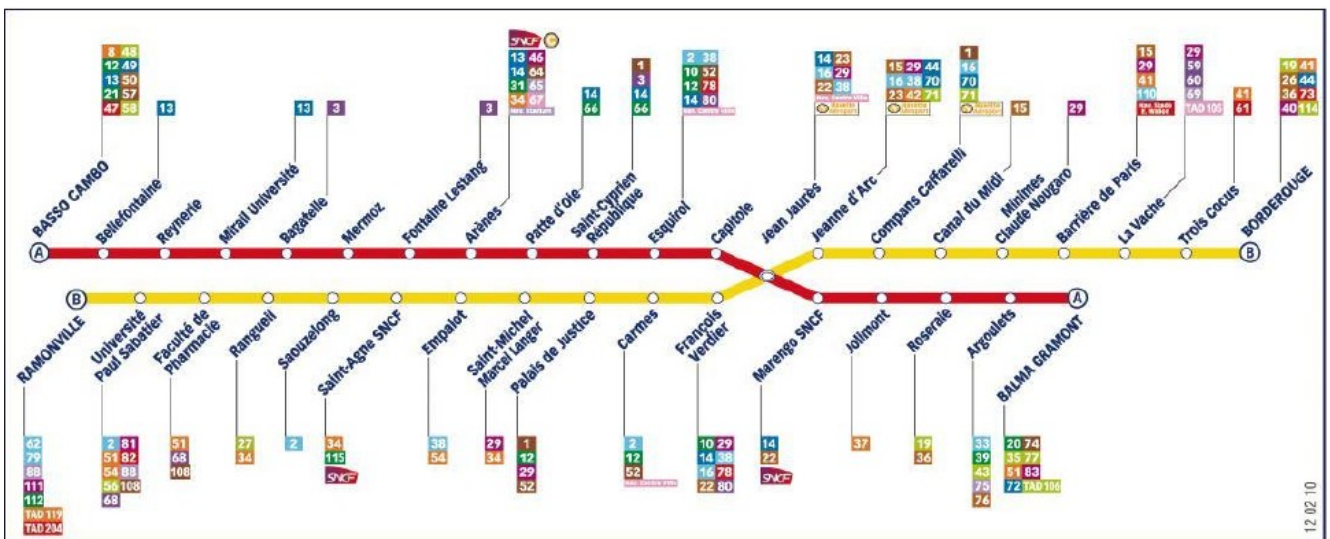
**Exercice 4 : grandeurs et mesure :**

Indique la température des thermomètres (pense à mettre l'unité!)



**Exercice 5 : plan:**

Voici le plan de métro de Toulouse.



a. Quelle est la ligne de métro qui t'emmène de « Bellefontaine » à « Jolimont » ?

b. Comment dois-tu faire pour aller de « Borderouge » à « Mermoz » ?