

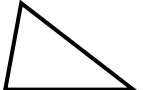


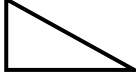
Prénom :

Date :

	<h1 style="margin: 0;">GÉOMÉTRIE</h1> <p style="margin: 0;">Les triangles (02)</p>
---	--

- Les figures géométriques à 3 côtés et 3 sommets : les triangles

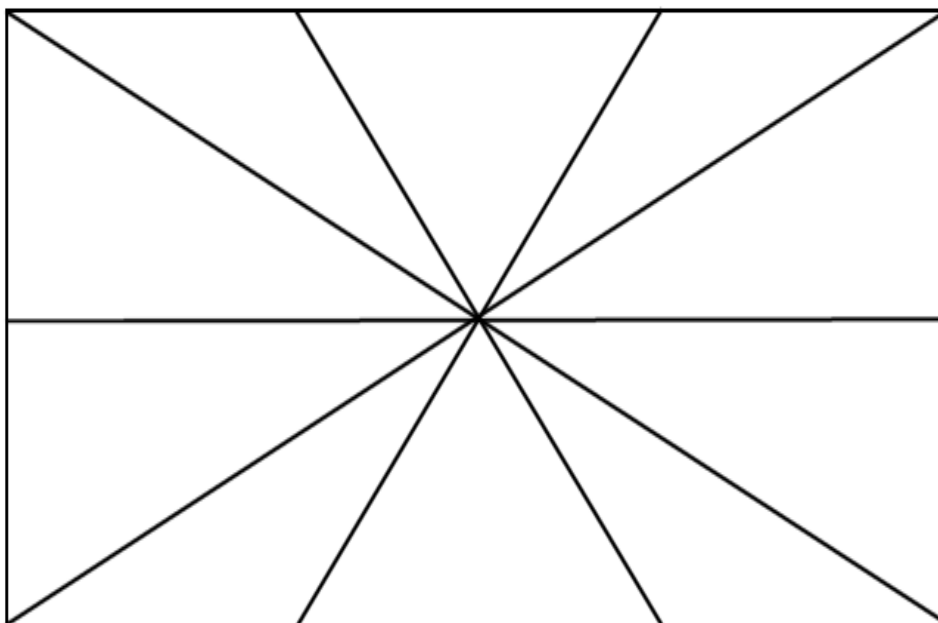
1./ Complète :

	: un triangle		: un triangle
	: un triangle		: un triangle

2./ Complète :

Noms de la figure	Particularités
Le triangle quelconque
Le triangle isocèle
Le triangle rectangle
Le triangle équilatéral

3./ Combien de triangles trouve-t-on dans cette figure :



Triangle quelconque	Triangle équilatéral	Triangle isocèle	Triangle rectangle
.....