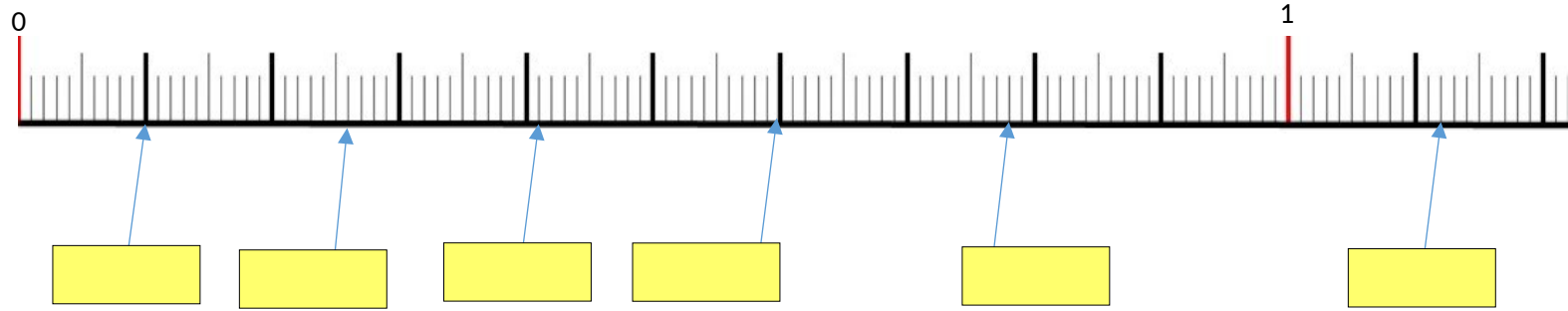



## Les fractions



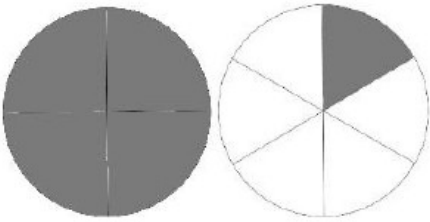
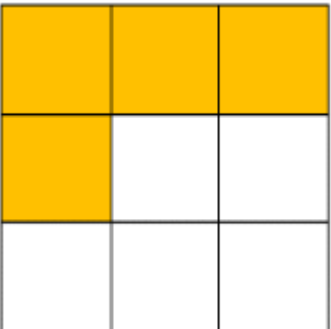
### Exercice 1 :

Cette droite est graduée en centième.

*Consigne : Complète les cases jaunes en utilisant le symbole / , comme dans l'exemple dans la case bleue :*



### Exercice 2 :

Représentation	Écriture en chiffre	Écriture en lettre
	<div style="background-color: yellow; width: 100%; height: 100%;"></div>	<div style="background-color: yellow; width: 100%; height: 100%;"></div>
	<div style="background-color: yellow; width: 100%; height: 100%;"></div>	<div style="background-color: yellow; width: 100%; height: 100%;"></div>
	<div style="background-color: yellow; width: 100%; height: 100%;"></div>	<div style="background-color: yellow; width: 100%; height: 100%;"></div>
	<div style="background-color: yellow; width: 100%; height: 100%;"></div>	<div style="background-color: yellow; width: 100%; height: 100%;"></div>

**Problème à résoudre, rédigé par Rachid :**

Mes parents veulent acheter une table à manger à 80€50 avec ses 8 chaises qui coûtent 16€99 chacune .

Combien va coûter le total ?

