

Mercredi 13 mai ou mercredi 19 mai

1) CALCUL MENTAL 15 min

Exercice 1 : Compte de **25 en 25**, à partir de 50 jusqu'à 300.

50 - 75 - 100 - 125 - 150 - 175 - 200 - 225 - 250 - 275 - 300.

Exercice 2 : écris la suite numérique décroissante de 50 en 50, depuis 450 jusqu'à 50.

450 - 400 - 350 - 300 - 250 - 200 - 150 - 100 - 50

Exercice 3: Calcule sans poser l'opération. *bonus

Tu dois pouvoir répondre en moins de 4 -5 min.

$50 + 25 = 75$	$25 \times 2 = 50$	75 pour aller à 100 → 25
$50 + 50 + 50 = 150$	$50 \times 4 = 200$	25 pour aller à 100 → 75
$100 - 50 = 50$	$2 \times 50 = 100$	$75 + 75 = 150$
$75 + 25 = 100$	$2 \times 25 = 50$	$175 - 25 = 150$
* $500 - 50 = 450$	* $100 : 2 = 50$	*725 pour aller à 1 000 → 275

2) Numération 25min

Exercice 1: Encadre à la dizaine près. Exemple : $7\ 580 < 7\ 586 < 7\ 590$

$570 < 572 < 580$

$2\ 880 < 2\ 887 < 2\ 890$

$5\ 760 < 5\ 762 < 5\ 770$

$3\ 470 < 3\ 479 < 3\ 480$

Exercice 2: Encadre à l'unité de mille près. Exemple : $7\ 000 < 7\ 586 < 8\ 000$

$5\ 000 < 5\ 241 < 6\ 000$

$9\ 000 < 9\ 090 < 10\ 000$

$1\ 000 < 1\ 268 < 2\ 000$

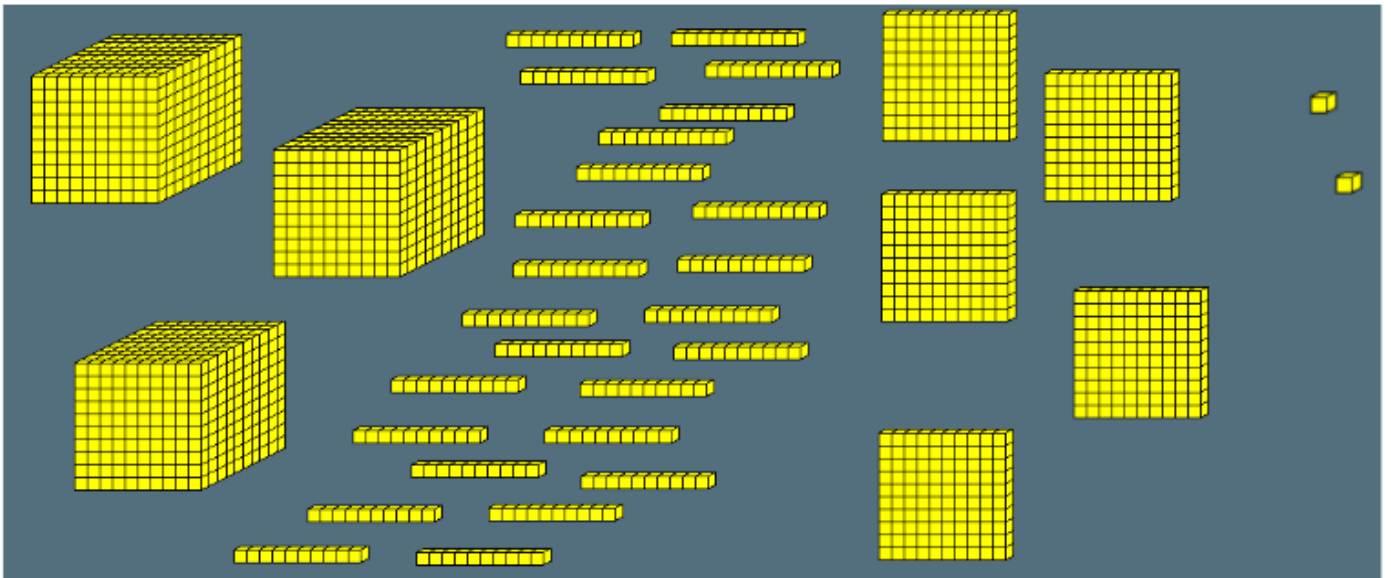
$2\ 000 < 2\ 999 < 3\ 000$

Exercice 3 : Range ces nombres dans l'ordre décroissant.

3 098 - 3 248 - 3 056 - 399 - 876 - 3 408

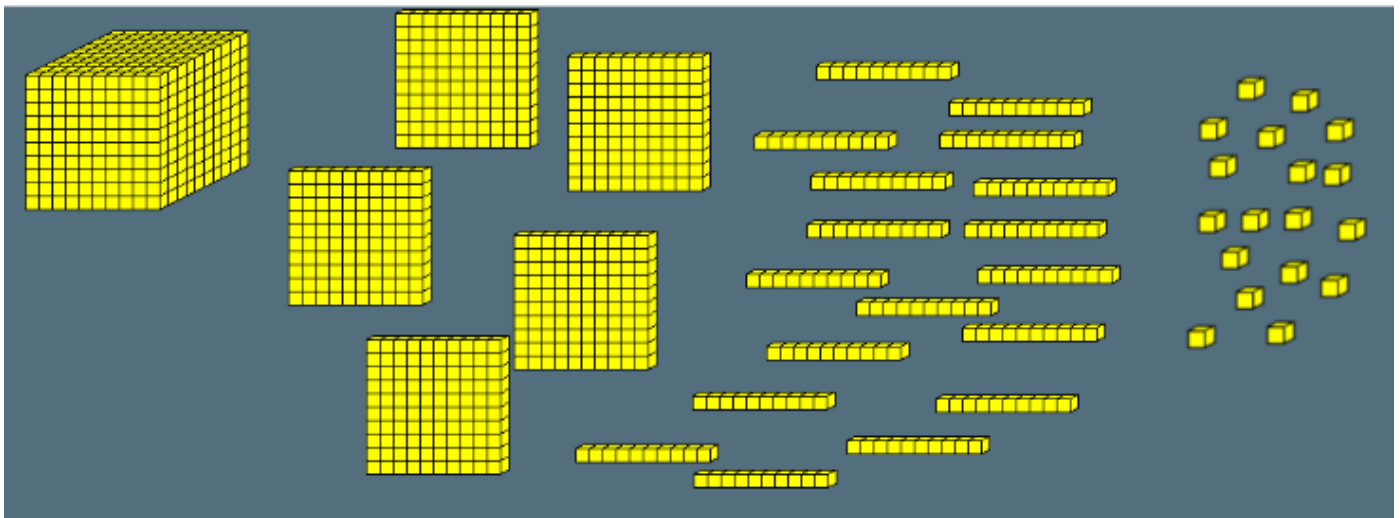
3 408 > 3 248 > 3 098 > 3 056 > 876 > 399

Exercice 4 : écris en chiffres le nombre de petits cubes.



$$3m + 5c + 25d + 2u = 3\ 000 + 500 + 250 + 2 = 3\ 752$$

3 m 5c 2c5d 2 u



$$1m + 5c + 18d + 18u = 1\ 000 + 500 + 180 + 18 = 1\ 698$$


1 m 5c 1c8d 1d 8u

3) GEOMETRIE 15 min AU crayon à papier ! (sur ton cahier, sans suivre les lignes!)

a) Trace un rectangle de 3 cm 5 mm de largeur et 8 cm de longueur !

b) Décris la figure et indique son nom. Puis reproduis-la sur ton cahier !
(Observe bien les côtés et les angles!)

Ce carré a quatre côtés de la même longueur et 4 angles droits.



FICHE 6 : épisode 6 :

1) Pah et Mougo ont décoré une bonne partie du plafond et une paroi de la caverne.
(un mur)

Ils ont dessiné des chevaux, des taureaux et des cerfs.

2) « Aucun animal n'est méchant. Il doit tuer pour se nourrir et doit fuir pour ne pas être mangé à son tour. C'est la vie. »

3) L'animal le plus gros : c'est le mammouth.
L'animal le plus malin : c'est l'homme.

4) L'homme est le plus malin car il sait fabriquer des outils et des armes. Il a le feu et il réfléchit avant d'agir.

Le martin-pêcheur est un oiseau. (indice : « Soudain, un martin-pêcheur plonge dans la rivière et en ressortit avec un petit (poisson) brillant dans le bec. »



Mougo utilise un harpon pour pêcher.