

La France compte 4 000 villes mais aussi plus de 32 000 villages.

Sur 67 millions de personnes qui vivent en France, 15 millions habitent des villages.

Je colorie en rouge les villes, en vert les villages.




.....: un groupe d'habitations de moins de 2000 habitants.

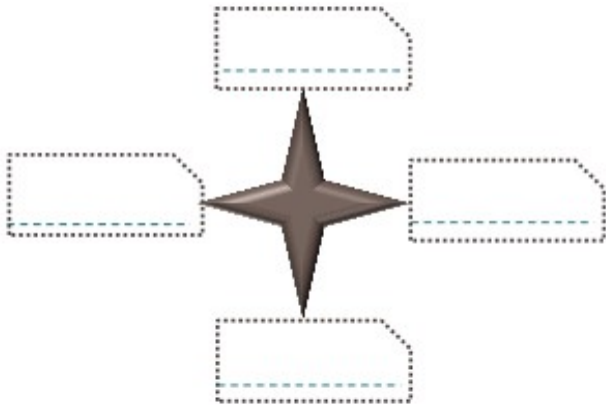
.....: un groupe d'habitations de plus de 2000 habitants.


_____ : ce qui concerne la ville

_____ : ce qui concerne la campagne



 Voici la carte de France. Je place un point rouge pour situer l'endroit où je vis.



 Donne un titre à chaque dessin. Entoure le dessin qui ressemble à l'endroit dans lequel tu vis.



J'habite dans la ville _____ Elle se situe dans le _____
de la France.

Mon département s'appelle _____, n° _____.

Ma région est _____.