

Énigme 1

Exercice 1 :

Antoine a ouvert son livre. En ajoutant les numéros de la page de gauche et ceux de la page de droite, il obtient le nombre 49.

Quels sont les numéros des deux pages ?



Les deux pages se suivent.


La page de gauche est la page 24, celle de droite est la page 25.

$$24 + 25 = 49$$


Énigme 2

Exercice 2 :

Marie prépare 4 bouquets de fleurs en utilisant toutes les tulipes et toutes les roses. Chaque bouquet doit être identique.



Trouve le nombre de tulipes et de roses dans chaque bouquet.




**Il y a 3 tulipes et 2 roses dans chaque bouquet.
Distribue les fleurs dans les 4 vases.**

Énigme 3 :

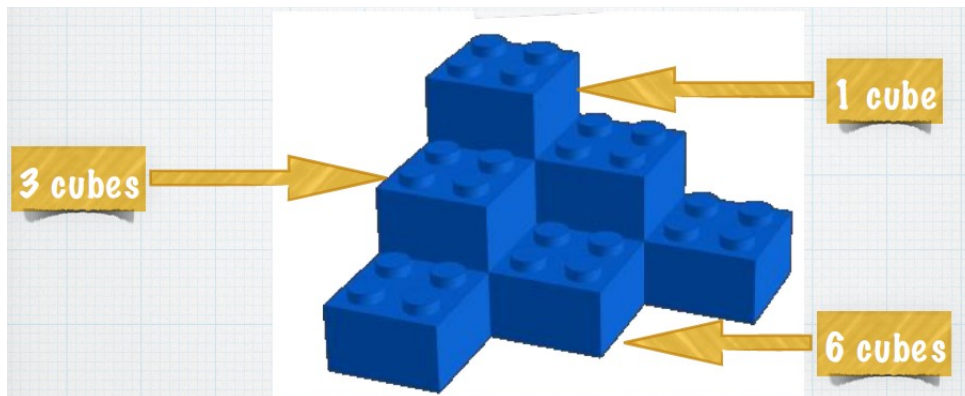
Exercice 3 :

Regarde cette construction de cubes :



Les cubes sont tous posés sur une table, il n'y a pas de trous cachés.

Combien faut-il de cubes  pour refaire la même construction ?



$$1 + 3 + 6 = 10$$

Il faut 10 cubes pour refaire la même construction.

Énigme 4:

Exercice 4 :

Dessine au moins 6 façons de faire 48 € avec le portemonnaie suivant :

