

LE GARAGE DE GUSTAVE

Episode 1



Belle journée pour se mettre au boulot !

Mais que va faire Gustave du tas d'objets qu'il a en trop ?

« Salut Rico ! Alors, ça roule ?

- Gustave, ma selle me met les nerfs en boule !

- Hum ! Avec quoi pourrais-je bien te dépanner ?...

J'ai trouvé ! Voilà qui devrait te contenter ! »



LE GARAGE DE GUSTAVE

Episode 2



« Coucou, Gina, comme ça va là-haut ?

- Il fait frisquet, Gustave. Il me faut de l'air chaud !

- Hum ! Avec quoi pourrais-je bien te dépanner ?...

J'ai trouvé ! Voilà qui devrait te contenter ! »




« Mon pauvre Arthur, tu vas finir par te déshydrater !

- Gustave, j'ai l'impression que ma peau est en train de brûler !

- Hum ! Avec quoi pourrais-je bien te dépanner ?...

J'ai trouvé ! Voilà qui devrait te contenter ! »



LE GARAGE DE GUSTAVE

Episode 3




« Madame Manchot, elle est loin d'être rose, votre situation !

- Gustave, j'ai besoin de toute urgence d'une climatisation !

- Hum ! Avec quoi pourrais-je bien te dépanner ?...

J'ai trouvé ! Voilà qui devrait te contenter ! »




« Hé ! Henri, tu as l'air tout penaud !

- Gustave, j'avance à la vitesse d'un escargot !

- Hum ! Avec quoi pourrais-je bien te dépanner ?...

J'ai trouvé ! Voilà qui devrait te contenter ! »



LE GARAGE DE GUSTAVE

Episode 4




Quelle journée ! Il reste à Gustave une dernière tâche à accomplir : prendre une bonne douche, car il n'a pas manqué de se salir !

Y a-t-il encore quelque chose qui pourrait lui servir ?

Hum ! Vraiment plus rien ?...

Ah! Mais si, enfin !




Énigme 1

Exercice 1 :

Antoine a ouvert son livre. En ajoutant les numéros de la page de gauche et ceux de la page de droite, il obtient le nombre 49.

Quels sont les numéros des deux pages ?




Énigme 2

Exercice 2 :

Marie prépare 4 bouquets de fleurs en utilisant toutes les tulipes et toutes les roses. Chaque bouquet doit être identique.



Trouve le nombre de tulipes et de roses dans chaque bouquet.



Énigme 1

Exercice 1 :

Antoine a ouvert son livre. En ajoutant les numéros de la page de gauche et ceux de la page de droite, il obtient le nombre 49.


Quels sont les numéros des deux pages ?



Énigme 2

Exercice 2 :

Marie prépare 4 bouquets de fleurs en utilisant toutes les tulipes et toutes les roses. Chaque bouquet doit être identique.



Trouve le nombre de tulipes et de roses dans chaque bouquet.

