





# Les unités et les dizaines

Voici 1 unité : ●

Voici 5 unités 

Voici 1 dizaine : C'est un paquet de 10 unités.



## 38

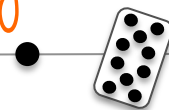


Dans 38 , il y a 3 dizaines et 8 unités.

$$38 = 10 + 10 + 10 + 8$$



# Les unités et les dizaines



Pour l'entraîner : Nomme le nombre et donne à chaque fois le nombre de dizaines et d'unités.

|    |    |    |    |    |
|----|----|----|----|----|
| 34 | 57 | 69 | 19 | 50 |
| 67 | 63 | 41 | 40 | 4  |
| 98 | 92 | 80 | 28 | 78 |
| 9  | 73 | 53 | 70 | 82 |
| 83 | 32 | 30 | 16 | 2  |

Pour l'entraîner : Nomme le nombre .

